

**Автономная некоммерческая организация высшего образования  
«Университет БРИКС (ЮниБРИКС)»**

**Университет БРИКС**



**Образец общеобразовательного вступительного испытания,  
проводимого Университетом БРИКС самостоятельно  
по истории**

г. Москва

1. Ниже приведён перечень терминов. Все они, за исключением двух, относятся к периоду единого Древнерусского государства. Найдите и выберите термины, относящиеся к другому историческому периоду.

- 1) тиун;
- 2) стрелец;
- 3) дворянин;
- 4) боярин;
- 5) дружинник;
- 6) холоп.

**Ответ: 2,3**

2. Ниже приведён перечень терминов. Все они, за исключением двух, относятся к жизни кочевых народов-степняков. Найдите и выберите термины, не относящиеся к жизни кочевников.

- 1) скотоводство;
- 2) хан;
- 3) хоромы;
- 4) конница;
- 5) соха;
- 6) седло.

**Ответ: 3,5**

3. Расположите в хронологическом порядке события, приведенные ниже. Выберите цифры, которыми обозначены события, в правильной последовательности.

- 1) введение «уроков и погостов»
- 2) Окончательное разделение христианской церкви на Римско-католическую и Православную
- 3) Крещение Руси
- 4) «призвание варягов»
- 5) захват князем Олегом Киева

- 32451
- 45132
- 14523
- 35124
- 52314

**Ответ: 45132**

4. Найдите пропущенное слово.

Главой Православной церкви в Древней Руси был \_\_\_\_\_, который подчинялся константинопольскому патриарху.

- Патриарх
- посадник
- митрополит
- великий князь

**Ответ: митрополит**

5. Расположите в хронологической последовательности исторические события. Найдите цифры, которыми обозначены исторические события, в правильной последовательности.

- 1) начало правления Андрея Боголюбского во Владимиро-Суздальском княжестве
- 2) принятие Конституции США
- 3) подписание Деулинского перемирия между Россией и Речью Посполитой

- 123
- 312
- 123
- 213
- 231

**Ответ: 132**

6. Найдите пропущенное слово.

В период правления Ивана Грозного впервые был созван \_\_\_\_\_ собор — высшее сословно-представительское учреждение, собрание представителей всех слоёв населения (кроме крепостных крестьян), которое созывалось для обсуждения политических, экономических и административных проблем.

- церковный
- всерусский
- Земский
- Патриарший
- Вселенский

**Ответ: Земский**

7. Ниже приведён перечень городов. Все они, за исключением двух, существовали в период Древнерусского государства. Найдите и выберите города, которые не существовали в период Древнерусского государства.

- 1) Киев;
- 2) Тобольск;
- 3) Смоленск;
- 4) Новгород;
- 5) Архангельск;
- 6) Чернигов.

**Ответ: 2,5**

8. Расположите в хронологической последовательности исторические события. Найдите цифры, которыми обозначены исторические события, в правильной последовательности.

- 1) смерть царевича Дмитрия в Угличе
- 2) поход Тохтамыша на Москву
- 3) присоединение Твери к Московскому государству

- 123
- 321
- 231
- 312

**Ответ: 231**

9. Расположите в хронологической последовательности исторические события. Определите цифры, которыми обозначены исторические события, в правильной последовательности.

- 1) разгром Англией Непобедимой армады
- 2) начало правления в Москве Семёна Гордого
- 3) Прутский поход Петра I

- 312
- 231
- 321
- 132
- 213

**Ответ: 213**

10. Какие события относятся к периоду правления Екатерины II? Найдите верные цифры, под которыми они указаны.

- 1) издание закона о единонаследии
- 2) создание Вольного экономического общества
- 3) введение крепостного права на Украине
- 4) запрет на высылку крепостных крестьян в Сибирь
- 5) выпуск ассигнаций
- 6) введение подушной подати

- 425
- 316
- 546
- 135
- 146

**Ответ: 546**


11. Какие из указанных деятелей были композиторами? Выберите три ответа и найдите цифры, под которыми они указаны.

- 1) А. П. Бородин
- 2) М. П. Мусоргский
- 3) П. Н. Яблочков
- 4) И. И. Шишкин
- 5) И. И. Мечников
- 6) П. И. Чайковский

- 236
- 136
- 126
- 124
- 135

**Ответ: 126**

12. Какие суждения о памятнике, изображённом на фотографии, являются верными? Выберите два суждения из пяти предложенных. Найдите цифры, под которыми они указаны.



- 1) Памятник посвящён юбилею легендарного призвания Рюрика.
- 2) Автор памятника — скульптор М. О. Микешин.
- 3) Памятник установлен по решению ЦК КПСС.
- 4) Автор памятника — скульптор Б. И. Орловский.
- 5) Памятник создан во второй половине XVIII в.

- 45
- 23
- 14
- 12
- 13

**Ответ: 12**

13. Какие суждения о данном здании являются верными? Выберите два суждения из пяти предложенных. Найдите цифры, под которыми они указаны.



- 1) На рисунке показан Царскосельский лицей.
- 2) Данное учебное заведение было основано по указу Петра I.
- 3) Данное учебное заведение находилось в Украине.
- 4) На рисунке показана Славяно-греко-латинская академия.
- 5) Данное учебное заведение было основано по указу Александра I.

- 23
- 14
- 15
- 45
- 35

**Ответ: 15**

14. Установите соответствие между процессами (явлениями, событиями) и фактами, относящимися к этим процессам (явлениям, событиям): к каждой позиции первого столбца подберите соответствующую позицию из второго столбца. Найдите верный вариант выбранных цифр с соответствующими буквами.

ПРОЦЕССЫ (ЯВЛЕНИЯ, СОБЫТИЯ)	ФАКТЫ
А) Смутное время	1) издание манифеста о незыблемости самодержавия
Б) коллективизация крестьянских хозяйств	2) принятие крестоцеловальной записи
В) политика Дмитрия Донского	3) ссылка А. Д. Меншикова в Сибирь
Г) контрреформы Александра III	4) подчинение тверского князя московскому
	5) курс на ликвидацию кулачества как класса
	6) поход опричного войска на Новгород

- А-3 Б-2 В-1 Г-6
- А-2 Б-5 В-4 Г-1
- А-3 Б-4 В-5 Г-2
- А-1 Б-6 В-3 Г-2

**Ответ: А-2 Б-5 В-4 Г-1**

15. Какие суждения о картине являются верными? Выберите два суждения из пяти предложенных. Найдите цифры, под которыми они указаны.



- 1) Картина создана в XX в.
- 2) Автор картины — И. Е. Репин.
- 3) Персонажи картины являются родственниками.
- 4) Картина посвящена событиям Смутного времени.
- 5) Автор картины — В. И. Суриков.

- 14
- 25
- 45
- 23
- 15

**Ответ: 23**

16. Установите соответствие между именами архитекторов и сооружениями, построенными по их проектам: к каждой позиции первого столбца подберите соответствующую позицию из второго столбца. Найдите верный вариант выбранных цифр соответствующими буквами.

АРХИТЕКТОРЫ	СООРУЖЕНИЯ
А) Б. Растрелли	1) храм Христа Спасителя
Б) Аристотель Фиораванти	2) дом Пашкова
В) К. А. Тон	3) Таврический дворец
Г) В. И. Баженов	4) Успенский собор Московского Кремля
	5) Дмитриевский собор во Владимире
	6) Екатерининский дворец в Царском Селе

- А-2 Б-6 В-4 Г-3
- А-6 Б-4 В-1 Г-2
- А-3 Б-1 В-4 Г-6
- А-4 Б-1 В-5 Г-3
- А-5 Б-1 В-4 Г-2

**Ответ: А-6 Б-4 В-1 Г-2**

17. Прочтите отрывок из научного труда и определите имя государственного деятеля, пропущенное в тексте.

*«Началась пропагандистская кампания по возвеличиванию нового “вождя”, сомнительный успех которой подкреплялся безграничным честолюбием\_\_\_\_\_. Он был награждён звёздами Героя Советского Союза (четырежды) и Героя Социалистического Труда, орденом “Победа”, которым по статусу награждали лишь полководцев за крупные победы в масштабе фронта, Золотой медалью Карла Маркса от АН СССР как классика марксизма-ленинизма, множеством советских и иностранных орденов\_\_\_\_\_стал обладателем массы должностей и званий: Председатель Совета Оборона, Верховный Главнокомандующий, Маршал Советского Союза, лауреат Ленинской премии мира и Ленинской премии за три брошюры: “Малая земля”, “Возрождение” и “Целина”, написанные без участия\_\_\_\_\_ профессиональными литераторами. Бесконечные восхваления\_\_\_\_\_, доходившие до фарса, не могли скрыть фактического всевластия партаппарата, КГБ и армейской верхушки. Внутренняя политика во времена\_\_\_\_\_ определялась милитаризацией экономики, ползучей реставрацией сталинизма, увеличением разрыва между процветанием верхов и убогой жизнью низов, коррумпированностью органов власти снизу доверху. Преступная внешняя политика — от введения танков в Чехословакию в 1968 до вторжения в Афганистан в 1979 г. — была лишь логическим следствием политики внутренней».*

- Н. С. Хрущев
- Л. И. Брежнев
- И. В. Сталин
- Ю. А. Андропов

**Ответ: Л. И. Брежнев**

18. Прочтите отрывок из исторического документа и определите, к какому году он относится.

*«Совет Народных Комиссаров постановляет: организовать новую армию под названием «Рабоче-крестьянская Красная армия», на следующих основаниях:*

*1) Рабоче-крестьянская Красная армия создаётся из наиболее сознательных и организованных элементов трудящихся масс.*

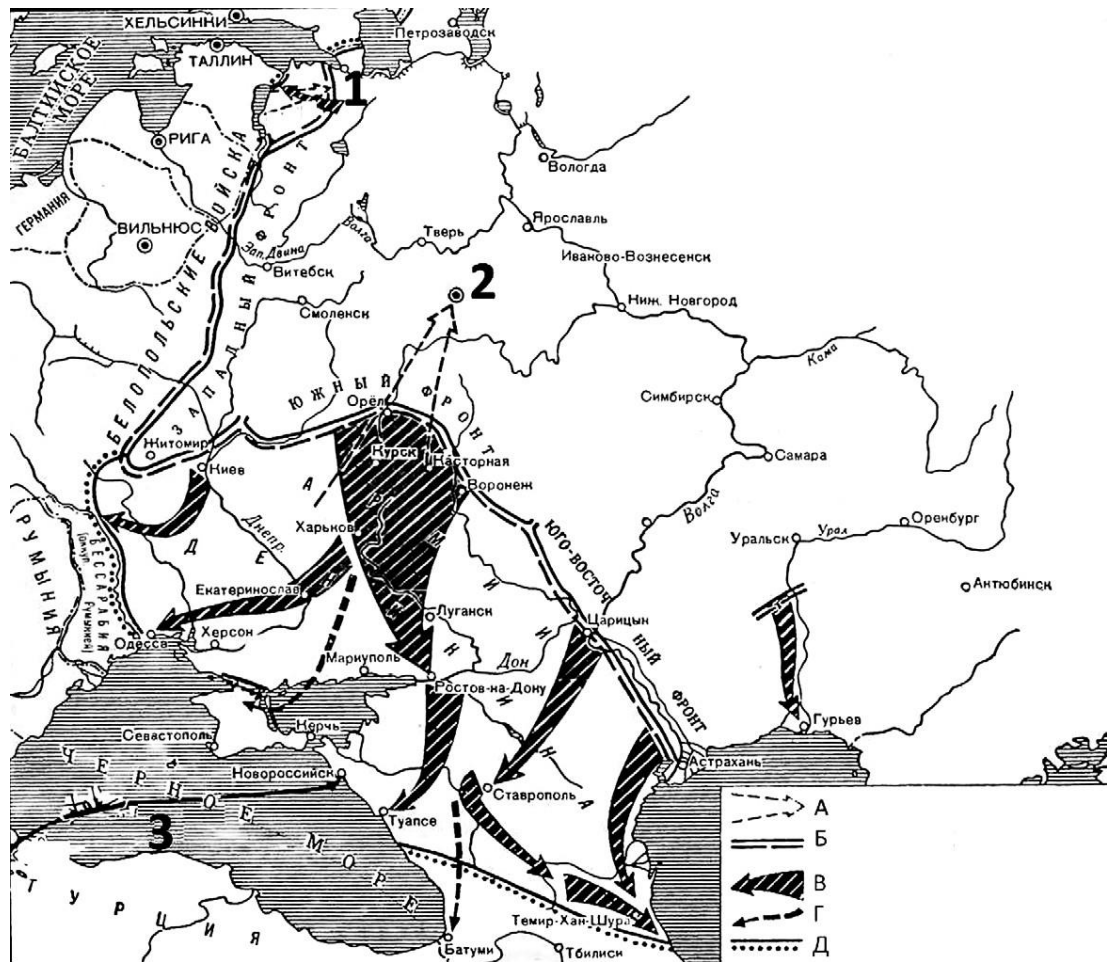
*2) Доступ в её ряды открыт для всех граждан Российской Республики не моложе 18 лет. В Красную армию поступает каждый, кто готов отдать свои силы, свою жизнь для защиты завоеваний Октябрьской революции, власти Советов и социализма. Для вступления в ряды Красной армии необходимы рекомендации: войсковых комитетов или общественных демократических организаций, стоящих на платформе Советской власти, партийных или профессиональных организаций или, по крайней мере, двух членов этих организаций.*

*При вступлении целыми частями требуется круговая порука всех и поимённое голосование».*

- 1917 г.
- 1918 г.
- 1920 г.

**Ответ: 1918 г.**

19. Рассмотрите схему. Какие суждения, относящиеся к событиям, обозначенным на схеме, являются верными? Выберите три суждения из шести предложенных. Найдите цифры, под которыми они указаны.



1) Войска, планируемое наступление которых обозначено в легенде схемы буквой «А», возглавлял во время изображённых на схеме событий П. Н. Врангель.

2) В город, обозначенный на схеме цифрой «2», в марте 1918 г. переехало правительство страны.

3) В период, когда происходили события, изображённые на схеме, партия большевиков объявила о начале проведения новой экономической политики.

4) Линия фронта, обозначенная в легенде схемы буквой «Б», сложилась в момент, когда противники большевиков добились максимального успеха.

5) В ходе событий, изображённых на схеме, наибольшую опасность для города, обозначенного цифрой «1», представляли войска под командованием Н. Н. Юденича.

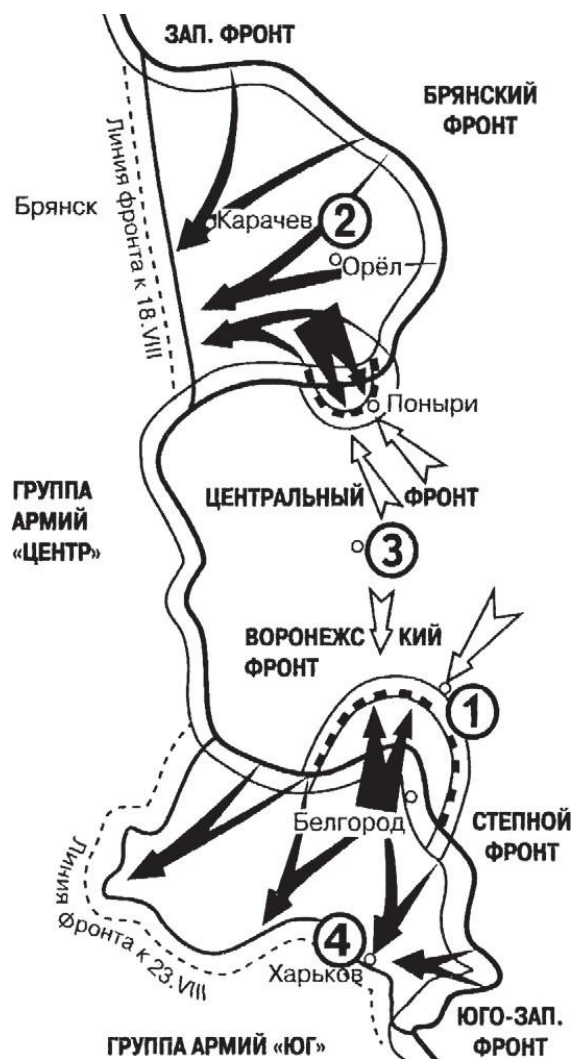
6) В период, когда происходили события, изображённые на схеме, партия большевиков сотрудничала с правыми эсерами и меньшевиками.

- 146
- 245
- 356
- 135
- 346

Ответ: 245



20. Рассмотрите схему. Какие суждения, относящиеся к событиям, обозначенным на карте, являются верными? Выберите три суждения из шести предложенных. Найдите цифры, под которыми они указаны.



- 1) Город, обозначенный на карте цифрой «4», в ходе войны несколько раз переходил из рук в руки.
- 2) В результате освобождения двух показанных на карте городов в Москве был дан первый салют.
- 3) Верховным главнокомандующим в это время был Г. К. Жуков.
- 4) Командование Красной армии заранее знало о готовящемся наступлении.
- 5) На исход сражения большое влияние оказало открытие второго фронта.
- 6) При подготовке к сражению было эвакуировано на восток множество предприятий.

- 246
- 145
- 136
- 256
- 124

**Ответ: 124**